






PLATAFORMA DE CLASES VIRTUALES, LIBROS Y LOS MEJORES VIDEOS PARA POTENCIARTE

KIBO

SIMULACRO

1. Busca dos equivalentes para 20 nuevos soles y 50 nuevos soles. Puedes usar billetes de lámina. Recuerda, pega la tarea en el cuaderno.

2. Completa el cuadro

Artículo	Precio por unidad	Precio por 2 artículos	Precio por 3 artículos	Precio por 4 artículos	Precio por 5 artículos
	30 céntimos				
	10 céntimos				
	50 céntimos				
	3 soles				
	2 soles				

3. Completo el ticket de cada compra viendo el cuadro anterior.

<div>2 helados ▶ _____</div> <div>4 cajitas de chicle ▶ _____</div> <div>5 caramelos ▶ _____</div> <div>Importe total ▶ _____</div> <div>Pago con ▶ 10 soles</div> <div>Mi vuelto ▶ _____</div>	<div>5 cajitas de fósforo ▶ _____</div> <div>3 jugos ▶ _____</div> <div>1 helado ▶ _____</div> <div>Importe total ▶ _____</div> <div>Pago con ▶ 15 soles</div> <div>Mi vuelto ▶ _____</div>
<div>4 caramelos ▶ _____</div> <div>3 cajitas de chicle ▶ _____</div> <div>5 jugos ▶ _____</div> <div>Importe total ▶ _____</div> <div>Pago con ▶ 12 soles</div> <div>Mi vuelto ▶ _____</div>	<div>4 cajitas de fósforo ▶ _____</div> <div>3 cajitas de chicle ▶ _____</div> <div>5 helados ▶ _____</div> <div>Importe total ▶ _____</div> <div>Pago con ▶ 20 soles</div> <div>Mi vuelto ▶ _____</div>